

En Geometría Euclídeana hay problemas no resueltos.

Paquetes de Círculos en un cuadrado.

Jorge Vargas

Sea S un cuadrado de lado s . Un paquete de círculos en S es un número finito de círculos contenidos en S tal que el interior de cualquier par de ellos son disjuntos. Formalmente si C_1, \dots, C_N son círculos contenidos en S , C_1, \dots, C_N forman un paquete si $D_i \cap D_j = \emptyset$ ($i \neq j$) donde $D_j = C_j$ -circunferencia determinada por C_j .

Problema: Si C_1, \dots, C_N tienen el mismo radio r . ¿Cuáles son posibles valores para r , N en función de S ?

Denotemos por x_1, \dots, x_N los centros de C_1, \dots, C_N respectivamente. Entonces la condición $D_i \cap D_j = \emptyset$ implica

$$(x) \quad d(x_i, x_j) \geq 2r \text{ si } i \neq j$$

La condición de que C_1, \dots, C_N están enteramente contenidos en S implica que (**) x_1, \dots, x_N están en un cuadrado de lado $S-2r$.

Recíprocamente, si X_1, \dots, X_N están en S , $d(x_i, x_j) \geq m > 0$ ($i \neq j$), entonces S contiene N -círculos C_1, \dots, C_N de centro x_1, \dots, x_N y radio r que constituyen un paquete en S si

$$\frac{r}{s} = \frac{m}{2(m+1)}.$$

Ahora mostramos como construir un paquete 10 círculos en un cuadrado.

En un cuadrado de lado unidad, dibujado como en fig. 1, dibujamos para cada x entre $\sqrt{2}-1$ y $1/2$ 10 puntos $P_1(x), \dots, P_{10}(x)$ de la manera siguiente:

$$P_2(x) = (0,0), P_4(x) = (0,1)$$

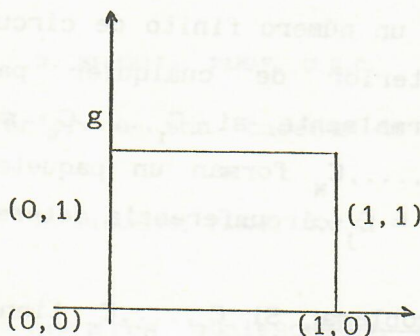
$$P_0(x), P_1(x), P_3(x), P_6(x), (0,1)$$

$P_7(x), P_8(x)$ están en el borde,

$P_5(x)$ en el interior de modo

que las ocho distancias

$d(P_0(x), P_1(x)); d(P_1(x), P_2(x)), d(P_2(x), P_3(x)), d(P_3(x), P_5(x)), d(P_4(x), P_5(x)), d(P_5(x), P_6(x)), d(P_6(x), P_7(x)), d(P_7(x), P_8(x))$, sean iguales a x . Sea $P_9(x)$ el centro de la circunferencia circunscripta del triángulo $P_1(x), P_5(x), P_8(x)$.



El radio de dicha circunferencia es un número $y(x)$. Es fácil verificar que $y(x)$ es una función de crecimiento de x , $y(x) > x$ si $x = \sqrt{2}-1$, $y(x) < x$ si $x = \frac{1}{2}$.

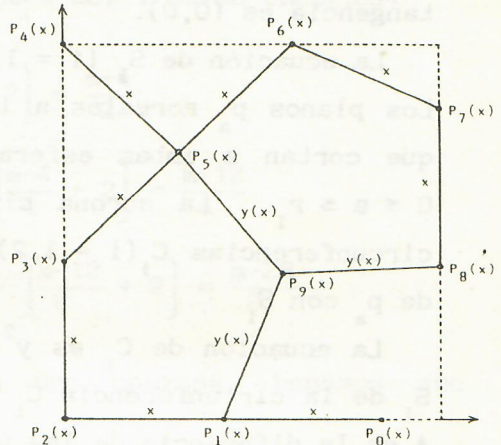

Por el teorema de Bolzano, la ecuación $y(x) = x$ tiene una única solución m en el intervalo $\sqrt{2}-1, \frac{1}{2}$, $m \sim 0,42119$.

Sea $x_i = P_i(m)$ $i = 0, 1, \dots, 9$. Estos diez puntos son centros de 10 círculos de radio $r = \frac{1}{2} m$ que forman el

paquete d en un cuadrado de lado $S = 1 + m$.

Conjetura: (Valette Guy - 1988).

Para cualquier paquete de círculos en un cuadrado se tiene que $N \leq 10$.



FACULTAD DE MATEMATICA, ASTRONOMIA Y FISICA
UNIVERSIDAD NACIONAL DE CORDOBA.

SOLUCIONES ENVIADAS

Problema 9. Vol. 1 N° 3.

Sean S_1 y S_2 dos esferas tangentes (la primera interior a la segunda). Sea P un plano normal a la recta determinada por los centros y el punto de tangencia y tal que corte a ambas. Sobre dicho plano las esferas determinan una corona circular. Sea a el área de esta corona y A_1 , A_2 las áreas de los casquetes de S_1 y S_2 , respectivamente, que contienen al punto de tangencia. Demostrar que $A_1 + a = A_2$.

La siguiente solución fue enviada por M. I. Viggiani Rocha (U.N. de Tucumán).